

## INTERNET et le KANGOUROU (CE2, CM1, CM2)

• **Pour VOUS, le générateur de pages d'exercices** (selon votre choix de thème, de classe, de difficulté...) : Allez sur l'**Espace-Enseignants** de [www.mathkang.org](http://www.mathkang.org) et connectez-vous avec la clé d'accès et le code-Kangourou de l'établissement.

• **Pour TOUS (élèves et enseignants), des entraînements** organisés en **MiniTests**

Rendez-vous sur le site [www.clubmaths.fr/minitest/](http://www.clubmaths.fr/minitest/)

Un code-minitest vous sera attribué (et vous pourrez le donner aux élèves).

Chacun de vos élèves pourra alors, après avoir choisi un pseudo, afficher, imprimer ou faire autant de MiniTests que souhaité, en recevoir les corrigés et consulter son « historique ».

*Ci dessous* : exemple de MiniTest (les questions sont choisies de la plus facile à la plus difficile selon les taux de réussite observés au jeu-concours Kangourou).

### MiniTest-Kangourou - Enoncés

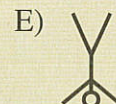


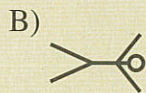
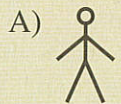
CYCLE 3

K06E01

① Anaïs dessine deux bonshommes et les répète l'un après l'autre dans le même ordre.




Quel sera le bonhomme suivant ?




K03E06

② Dans un de ces dessins, il y a exactement la moitié des petits dessins qui sont des cœurs. Lequel est-ce ?



A)



B)



C)



D)

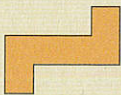


E)

K06E16

③ Les pièces ci-dessous ont une face orange et une face bleue. Laquelle n'est pas utilisée dans le puzzle ?

A)



B)




C)



D)



E)



K00E15

④ Quels sont les quatre chiffres à effacer, dans le nombre 4 921 508, pour que le nombre de trois chiffres restant soit le plus petit possible ?

A) 4, 9, 2 et 1    B) 4, 2, 1 et 0    C) 1, 5, 0 et 8    D) 4, 9, 2 et 5    E) 4, 9, 5 et 8

K06E07

⑤ Autour d'une table carrée, quatre personnes peuvent s'asseoir.

Pour la fête de l'école, les élèves ont aligné 10 de ces tables carrées l'une après l'autre pour former une seule longue table.

Combien de personnes vont pouvoir s'asseoir à cette longue table ?

A) 20    B) 22    C) 30    D) 32    E) 40